

數學補救教學學習單：數字排序及計數 (一)


班級：

座號：

姓名：

能力指標	1-n-01 能認識 100 以內的數及「個位」、「十位」的位名，並進行位值單位的換算。
基本學習內容	1-N-1-2 辨認「個位」及「十位」並進行換算 1-N-1-1 讀寫 100 以內的數並以不同的表徵表示該數所表示的量。

一、看圖填填看：






(1) 共有 () 個水果。


(2) 放在第 5 個的是


( , ) 。


第 1 個

(3) 放在第 3 個的是 ( , ) 。

(4)  放在第 () 個。



(5)  放在第 () 個。

①  的前面已經有 () 個學生排隊過馬路。

②  排在第 () 個，她的後面還有 () 個學生排隊。

③ 圈圈看，哪一個
人會先過馬路？



( , )

數學補救教學學習單：數字排序及計數 (二)

班級：

座號：

姓名：


能力指標	1-n-01 能認識 100 以內的數及「個位」、「十位」的位名，並進行位值單位的換算。
基本學習內容	1-N-1-2 辨認「個位」及「十位」並進行換算 1-N-1-1 讀寫 100 以內的數並以不同表徵表示該數所表示的量。

一、看圖填填看：

- (1) 在 第 () 格。
 - (2) 在 第 () 格。
 - (3) 放 在 第 () 格。
 - (4) 這 個 櫃 子 共 有 () 格。

1	2	3	4	5	6	7	8	9	10
11	12	13	14	15	16	17	18	19	20
21	22	23	24	25	26	27	28	29	30
31		33	34	35	36	37	38	39	40
41	42	43		45	46	47	48		50

2. 依-據-問-題-填-填-看：



- (1) 小冰 排 在 第 () 個。
- (2) 冬冬 排 在 第 () 個。
- (3) 小杰 前 面 已 經 有 () 個 人 上 公 車。
- (4) 文棋 和 花子，誰 比 較 快 坐 上 公 車？ 圈 圈 看。(文棋 ， 花子)



- ① 從 \triangle 數 起， \star 排 在 第 () 個。
- ② 從 \square 數 起，排 在 第 () 個。
- ③ 全 部 共 有 () 個 \bigcirc 。
- ④ 從 \square 數 起，共 有 () 個 圖 形；從 \triangle 數 起，共 有 () 個 圖 形。
- ⑤ 承 上 題，兩 次 數 的 個 數 一 樣 多 嗎？ 在 \square 中 打 \sim ：
 一 樣 不 一 樣

數學補救教學學習單：數字排序及計數 (三)

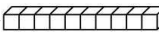





班級：

座號：

姓名：

能力指標	1-n-01 能認識 100 以內的數及「個位」、「十位」的位名，並進行位值單位的換算。
基本學習內容	1-N-1-2 辨認「個位」及「十位」並進行換算 1-N-1-1 讀寫 100 以內的數並以不同的表徵表示該數所表示的量。

一、填填看：

- (1) 85 是 () 個十和 () 個一合起來。
- (2) 7 個十和 4 個一合起來是 () 。
- (3) 8 個十和 5 個一合起來是 () 。
- (4) 個位數字是 6，十位數字是 9 的數是 () 。
- (5) 56 的十位數字是 ()，個位數字是 () 。
- (6) 8 條 、3 個  合起來和 () 個  一樣多。
- (7) 7 個 、9 條  合起來和 () 個  一樣多。
- (8) 個位數字是 8，十位數字是 9 的數是 () 。
- (9) 57 的個位數字是 ()，十位數字是 () 。
- (10) 數一數，有多少？連一連：

①

再加工

②

再加工

③

④

- ● 45
- ● 40
- ● 33
- ● 26

數學補救教學學習單：數字排序及計數 (四)

班級：

座號：

姓名：

能力指標	1-n-01 能認識 100 以內的數及「個位」、「十位」的位名，並進行位值單位的換算。
基本學習內容	1-N-1-2 辨認「個位」及「十位」並進行換算 1-N-1-1 讀寫 100 以內的數並以不同表徵表示該數所表示的量。

一、比比看，答案比較大的在 () 裡打 \checkmark ：

$$12-4$$

$$15-9$$

$$17-8$$

$$15-7$$

()

()

()

()

$$16-8$$

$$13-6$$

$$12-2-6$$

$$10-7+2$$

()

()

()

()

$$16-6-3$$

$$8+5$$

$$14-4-5$$

$$10-8+4$$

()

()

()

()

二、填填看

- 78 是 () 個十和 () 個一合起來的。
- 67 是 () 個十和 () 個一合起來的。
- 「82」的個位數字是 ()，十位數字是 ()。
- 「90」的個位數字是 ()，十位數字是 ()。
- 5 個十和 0 個一合起來是 ()。
- 7 個十和 9 個一合起來是 ()。

數學補救教學學習單：數字排序及計數（五）

班級：

座號：

姓名：

能力指標	1-n-01 能認識 100 以內的數及「個位」、「十位」的位名，並進行位值單位換算。
基本學習內容	1-N-1-2 辨認「個位」及「十位」並進行換算 1-N-1-1 讀寫 100 以內的數並以不同表徵表示該數所表示的量。

一、畫⑩和①做做看，並用直式記下來：

(1) $9 + 14 = (\quad)$	(2) $38 - 7 = (\quad)$	(3) $34 - 9 = (\quad)$
(4) $36 + 6 = (\quad)$	(5) $15 + 5 = (\quad)$	(6) $24 - 4 = (\quad)$

八、把做法用算式記下來：

(1) 姑姑今年 52 歲，比媽媽大 5 歲，媽媽今年幾歲？ () 歲	(2) 小萍有 18 枝蠟筆，爸爸又給她 6 枝，小萍共有幾枝蠟筆？ () 枝
(3) 養雞場裡有 32 隻母雞和 9 隻公雞，養雞場裡共有幾隻雞？ () 隻	(4) 超商裡有 43 瓶牛奶，老闆今天賣出 8 瓶，超商裡還剩下幾瓶牛奶？ () 瓶

數學補救教學學習單：數字排序及計數 (六)

班級：

座號：

姓名：

能力指標	1-n-01 能認識 100 以內的數及「個位」、「十位」的位名，並進行位值單位的換算。
基本學習內容	1-N-1-2 辨認「個位」及「十位」並進行換算 1-N-1-1 讀寫 100 以內的數並以不同表徵表示該數所表示的量。

一、下面是富來商店的商價目表，看表回答問題：

項目	價格
紅茶	9 元
餅乾	35 元
鮮奶	23 元
糖果	7 元

(1) 小芳買了一包餅乾和一瓶紅茶，共要付幾元？

() 元

(2) 一瓶鮮奶比一包糖果貴幾元？

() 元

二、畫⑩和①做做看看，並用直式記下來：

<p>(1) 水果行老闆買進 44 個梨子，其中 9 個壞掉，剩下幾個梨子沒有壞掉？</p> <p>() 個</p>	<p>(2) 美美有 8 元，她想買一杯 25 元的珍珠奶茶，還不夠幾元？</p> <p>() 元</p>
<p>(3) 小禎在看故事書，已經看了 9 頁，還剩 41 頁，故事書總共有幾頁？</p> <p>() 頁</p>	<p>(4) 茶葉蛋一個 8 元，包子一個 15 元，奇偉買一個茶葉蛋和一個包子當作早餐，要花幾元？</p> <p>() 元</p>

